




2. Punkte auf dem Graphen	Hier erfährst du, wie du rechnerisch überprüfen kannst, ob ein gegebener Punkt auf dem Graphen der linearen Funktion liegt.	https://youtu.be/hmBhmyjMCNA 
2.1 Punkte auf dem Graphen y-Koordinate bestimmen	Hier erfährst du, wie du die y-Koordinate eines Punktes so berechnen kannst, dass der Punkt auf dem Graphen der linearen Funktion liegt.	https://youtu.be/X48ZBF9jTDw 
2.2 Punkte auf dem Graphen x-Koordinate bestimmen	Hier erfährst du, wie du die x-Koordinate eines Punktes so berechnen kannst, dass der Punkt auf dem Graphen der linearen Funktion liegt.	https://youtu.be/5ZCpbSIKG0Y 
3. Nullstellen Linearer Funktionen	Hier erfährst du, was Nullstellen sind und wie man sie berechnet.	https://youtu.be/fdFXsRXtVWk 